



امتحان مادة : الدراسات الاجتماعية (هذا وطني)

للفف : الحادي عشر

للعام الدراسي ١٤٤٤هـ - ٢٠٢٢/٢٠٢٣م

الدور الأول - الفصل الدراسي الثاني

- زمن الامتحان : (ساعتان) ● عدد صفحات أسئلة الامتحان: (٧) صفحات.
- الإجابة في الدفتر نفسه .

		اسم الطالب
الصف		المدرسة

التوقيع بالاسم		الدرجة		السؤال
المصحح الثاني	المصحح الأول	بالحروف	بالأرقام	
				١
				٢
				٣
				٤
				٥
مراجعة الجمع	جمعه			المجموع
				المجموع الكلي

(١)

المادة : الدراسات الاجتماعية (هذا وطني) الصف : الحادي عشر الدور الأول - الفصل الدراسي الثاني
- العام الدراسي ٢٠٢٢/٢٠٢٣م

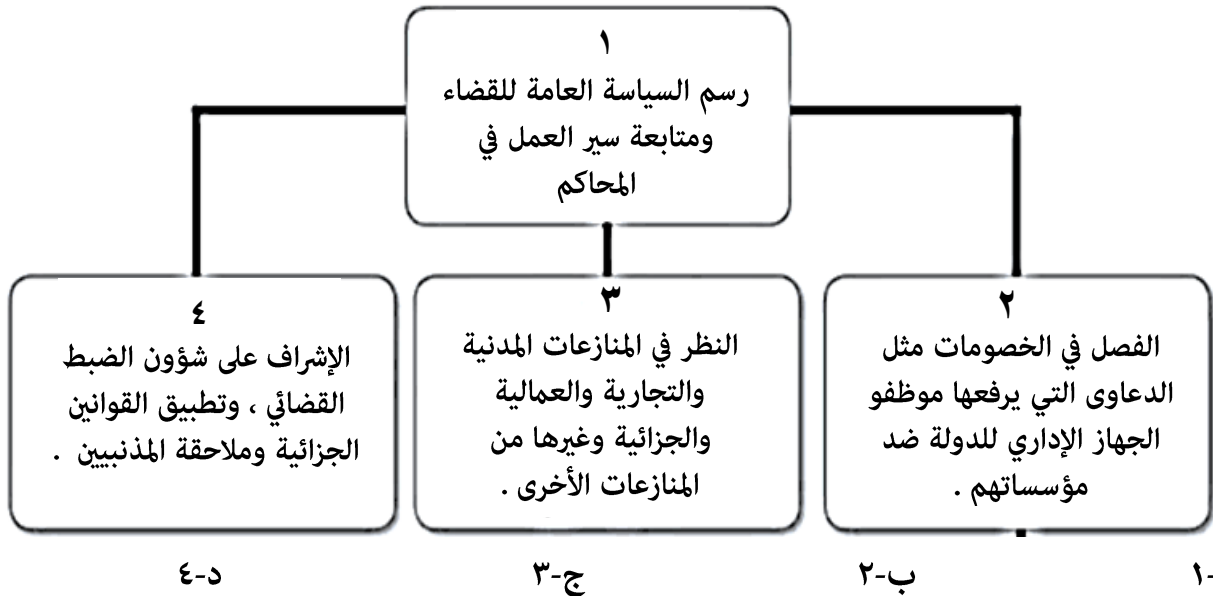
أجب عن جميع الأسئلة الآتية

السؤال الأول: ضع دائرة حول رمز الإجابة الصحيحة لكل مفردة من المفردات الآتية:

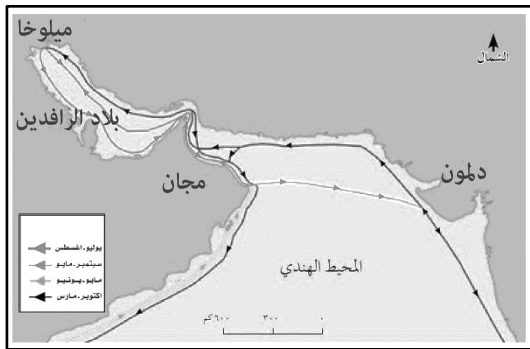
١- استحدثت سلطنة عمان بوابة استثمار بسهولة بهدف:

- أ- الترويج للمنتجات العمانية
ب- تسهيل إقامة المشاريع الاقتصادية
ج- تسهيل التصدير للخارج
د- تقليل المنافسة على المنتجات المحلية

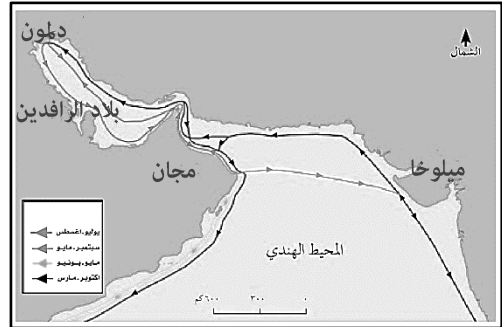
٢- الرقم الصحيح الذي يمثل القضاء العادي للسلطة القضائية في سلطنة عمان من خلال الشكل:



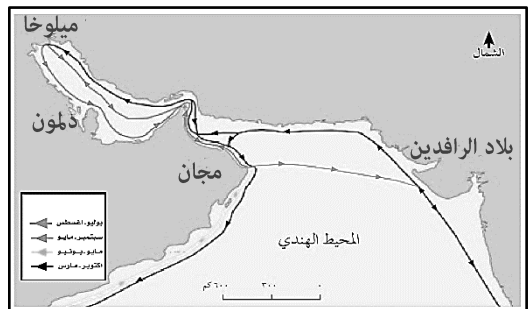
٣- الخريطة التي تمثل الموقع الصحيح للحضارات القديمة التي كانت لها علاقات تجارية مع حضارة مجان:



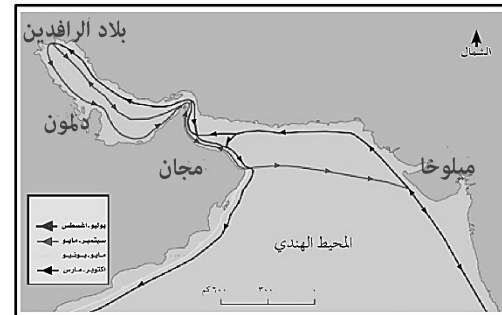
ب -



أ -



د -



ج -

المادة : الدراسات الاجتماعية (هذا وطني) الصف : الحادي عشر الدور الأول - الفصل الدراسي الثاني
- العام الدراسي ٢٠٢٢/٢٠٢٣م

تابع السؤال الأول:

٤- السلع والمنتجات المستوردة من الساحل الشرقي لأفريقيا إلى عمان في العصور الإسلامية والحديثة:

- أ- المنسوجات-العاج-العقاقير-الزجاج
ب- الصوف-العاج-الجلود-النحاس
ج-العاج-الصوف-الجلود-العقاقير
د-الحديد-العطور-الجلود-الصوف

٥- عدد الأبواب التي يتكون منها النظام الأساسي للدولة:

- أ- ٧ ب- ٨ ج- ٩ د- ١٠

٦- الفترة الزمنية التي وضعت فيها البنية الأساسية للاقتصاد العماني في عهد النهضة المباركة:

- أ- (١٩٧٥-١٩٧٠م) ب- (١٩٧٥-١٩٨٠م) ج- (١٩٨٠-١٩٨٥م) د- (١٩٨٥-١٩٩٠م)

٧- توضح الصورة أمامك أحد جوانب اهتمام السلطان قابوس -طيب الله ثراه - بمجال:



- أ- الصحة
ب- التعليم
ج- الحياة الاقتصادية
د- الحياة الاجتماعية

٨- الحاكم الرابع عشر في الأسرة البوسعيدية التي أسسها الإمام أحمد بن سعيد:

- أ- سعيد بن سلطان ب- فيصل بن تركي ج- سعيد بن تيمور د- قابوس بن سعيد

٩- الجهة المانحة لجائزة السلام الدولية التي حصل عليها السلطان قابوس بن سعيد-طيب الله ثراه- عام ١٩٩٨م:

- أ- الولايات المتحدة الأمريكية ب- جمهورية الهند ج- جمهورية روسيا الاتحادية د- المملكة المتحدة

١٠- سأل أحمد أستاذه عن المقولة الشهيرة للسلطان قابوس بن سعيد - طيب الله ثراه - " عفا الله عما سلف "

فوضّح له أن هذا الشعار الذي نادى به السلطان مَثَل في:

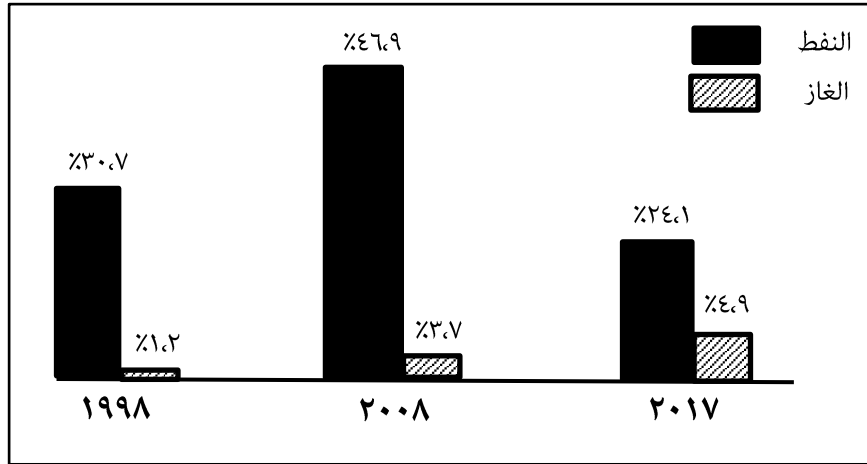
- أ- انتهاج سياسة حسن الجوار مع الجيران
ب- عدم التدخل في الشؤون الداخلية للدول
ج- العفو السامي عن كل من يحمل أفكاراً تعارض نظام الحكم
د- تدعيم العلاقات مع الدول العربية

١١- استبدل المجلس الاستشاري للدولة الذي أنشئ عام ١٩٨١م بـ :

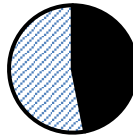
- أ- مجلس الشورى ب- مجلس الدولة ج- المجلس البلدي د- مجلس الوزراء

تابع السؤال الأول:

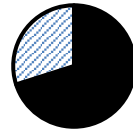
١٢- نسبة مساهمة النفط في الناتج المحلي الإجمالي لسلطنة عمان عام ٢٠٠٨ م من خلال الشكل:



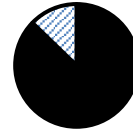
- د



- ج



- ب



- أ

السؤال الثاني: أجب عن الأسئلة الآتية:

أولاً: أ) عرف ما يأتي:

١- الناتج المحلي الإجمالي

٢- القانون

٣-

ب) صف العبارات الآتية بما يناسبها في الجدول التالي:

(رفع التوصيات إلى السلطان في الأمور التي تهم الدولة - يضم مجلس الدفاع والمجلس الأعلى للقضاء - اقتراح مشروعات قوانين وإحالتها إلى الحكومة لدراستها)

المجالس المتخصصة	مجلس عمان	مجلس الوزراء
.....
.....

ثانياً: علل ما يأتي:

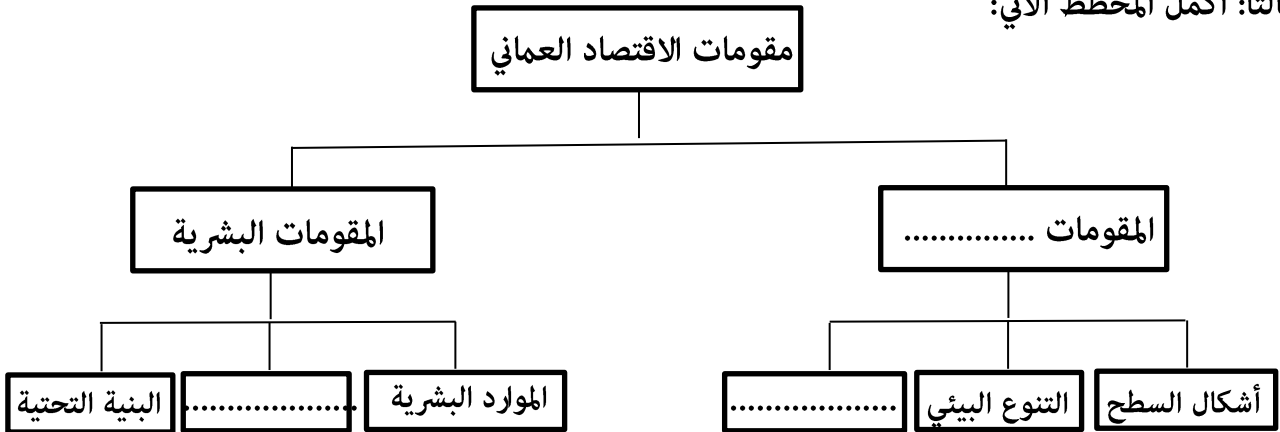
١- يتم اختيار أعضاء مجلس الدولة من بين الشخصيات العمانية ذات الخبرة والكفاءة في المجالات المختلفة.

.....

٢- اكتسبت المنتجات العمانية سمعة جيدة في الأسواق المحلية والعالمية .

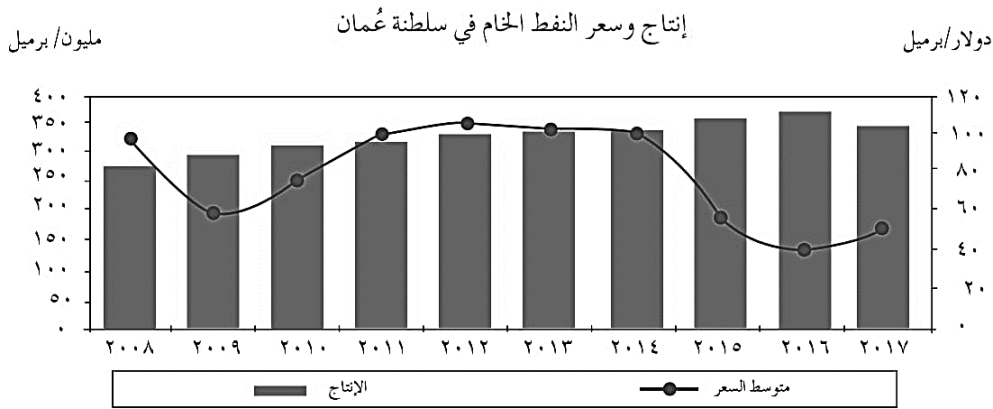
.....

تابع :السؤال الثاني:
ثالثا: أكمل المخطط الآتي:



السؤال الثالث: أجب عن الأسئلة الآتية:

أولاً: أدرس الشكل البياني ثم أجب عن الأسئلة التي تليه :



- ١- ماذا تلاحظ على أسعار النفط خلال الفترة من ٢٠٠٨م إلى ٢٠١٧م؟
- ٢- استخرج معدل الإنتاج السنوي للنفط لعام ٢٠١٥م
- ٣- كم بلغ متوسط سعر نفط عمان لعام ٢٠١٤م؟
- ٤- ما السياسة التي انتهجتها سلطنة عمان لمواجهة التقلبات في أسعار النفط العالمية؟

ثانيا: اذكر اثنين لكل من:

١-هوايات السلطان قابوس بن سعيد طيب الله ثراه.

..... -

٢-الأبواب التي يتكون منها قانون المرور العماني.

..... -

تابع: السؤال الثالث:

ثالثاً: من خلال الخريطة التي أمامك أجب عما يلي:

١- ما اسم الميناء المشار إليه بالرقم (١) ؟

٢- استخرج من الخريطة ما يلي:

أ- الرقم الذي يشير إلى الولاية التي اشتهرت بصناعة السفن

ب- الرقم الذي يشير إلى الولاية التي يوجد بها المعهد العالي للقضاء

٣- اكتب ميناء صحار في موقعه الصحيح على الخريطة.



السؤال الرابع: أجب عن الأسئلة الآتية:

أولاً: من خلال دراستك لموضوع التشريعات والقوانين العمانية . اقرأ النص الآتي، ثم اجب عن الأسئلة التي تليه:



كلمات مضيئة

«إن العدل أبو الوظيفة وحارسها فتمسكوا به وعاملوا الجميع بمقتضاه، وإني لرقيب على أن يفني كل منكم بهذه الأسس والمعاني، فلن يكون في مجتمعنا مكان لمنحرف أو متعاس عن أداء واجبه أو معطل لأدائه، كما يكون لكل مجتهد نصيب من المكافأة والتقدير والوفاء بالجميل»

من خطاب السلطان قابوس بن سعيد - طيب الله ثراه - / ١٥ مايو ١٩٧٨م.

١- استخرج القيمة التي ذكرها السلطان قابوس بن سعيد - طيب الله ثراه - في التعامل مع الجميع.

.....

٢- دلل على اهتمام السلطان قابوس بن سعيد - طيب الله ثراه - بتقدير المجتهد والمنتج في المجتمع .

.....

٣- ما أول وثيقة قانونية متكاملة في التاريخ العماني؟

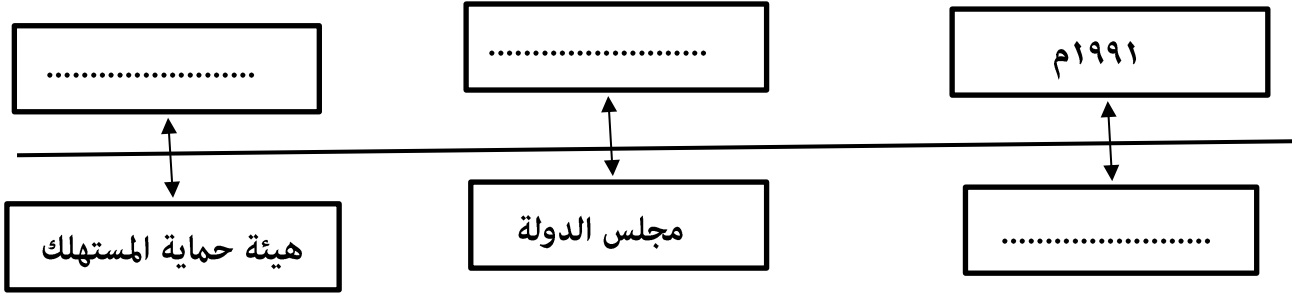
.....

(٦)

المادة : الدراسات الاجتماعية (هذا وطني) الصف : الحادي عشر الدور الأول - الفصل الدراسي الثاني
- العام الدراسي ٢٠٢٢/٢٠٢٣ م

تابع : السؤال الرابع:

ثانياً: أكمل المخطط الذي يوضح المجالس الفرعية والهيئات العامة للدولة:



ثالثاً : أذكر نتيجة واحدة مترتبة على كلٍ من:

١- سعي الجهات المختصة إلى دعم المنتج العماني وحث المواطنين على شرائه.

٢- موقع عمان الجغرافي وخبرة العمانيين في الملاحة البحرية.

السؤال الخامس: أجب عن الأسئلة الآتية:

أولاً: أذكر اثنين لكلٍ من :

١- القطاعات الغير النفطية في سلطنة عمان.

٢- الجوانب التي تضمنتها الرؤية المستقبلية عمان ٢٠٤٠.

ثانياً: رتب الأحداث الآتية في حياة السلطان قابوس بن سعيد - طيب الله ثراه - من الأقدم إلى الأحدث وذلك بكتابة الأرقام (١ ، ٢ ، ٣ ، ٤) .

- () التدرّب على فن القيادة العسكرية في ألمانيا الغربية.
- () أرسله والده إلى بريطانيا حيث التحق بمدرسة سافوك لمدة عامين.
- () درس نظم الحكم المحلي في بريطانيا.
- () التحق بالأكاديمية العسكرية الملكية (ساند هيرست) .

(٧)

المادة : الدراسات الاجتماعية (هذا وطني) الصف : الحادي عشر الدور الأول - الفصل الدراسي الثاني
- العام الدراسي ٢٠٢٢/٢٠٢٣ م

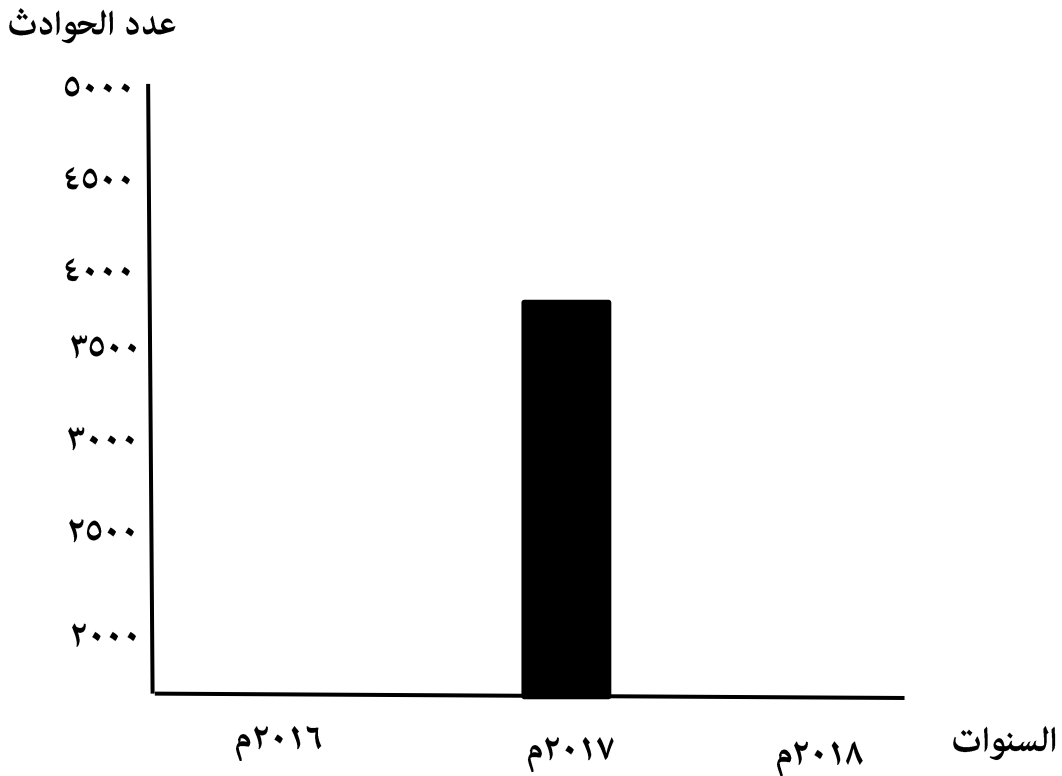
تابع: السؤال الخامس:

ثالثاً: ادرس الجدول الذي يوضح أعداد الحوادث في سلطنة عمان خلال الفترة (٢٠١٦ - ٢٠١٨ م) ثم أجب عن الأسئلة التي تليه:

السنة	عدد الحوادث
٢٠١٦ م	٤٧٢١
٢٠١٧ م	٣٨٤٥
٢٠١٨ م	٢٨٠٢

١- ماذا تلاحظ على عدد الحوادث في سلطنة عمان خلال الفترة (٢٠١٦ - ٢٠١٨ م)؟

٢- مثل بيانياً أعداد الحوادث في سلطنة عمان لعامي ٢٠١٦ م و ٢٠١٨ م .



٣- وضح أهمية قانون المرور العماني

انتهت الأسئلة مع الدعاء للجميع بالتوفيق والنجاح.